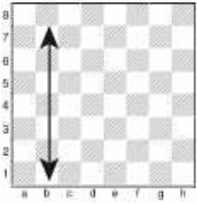



## Esercizio misto 1



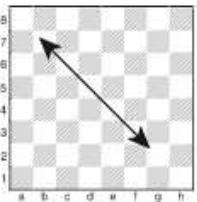
Come si chiamano le caselle sulla linea verticale?

- Colonna
- Traversa
- Diagonale




Come si chiamano le caselle sulla linea orizzontale?

- Colonna
- Traversa
- Diagonale




Come si chiamano le caselle sulla linea obliqua?

- Colonna
- Traversa
- Diagonale




Definisci il tipo di casella marcata dall'asterisco?

- Casella d'angolo
- Casella laterale
- Casella centrale
- Casella normale



Definisci il tipo di casella marcata dall'asterisco?


- Casella d'angolo
- Casella laterale
- Casella centrale
- Casella normale



Definisci il tipo di casella marcata dall'asterisco?

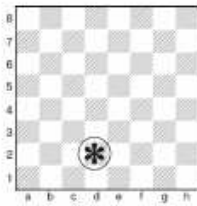
- Casella d'angolo
- Casella laterale
- Casella centrale
- Casella normale

## Esercizio misto 1



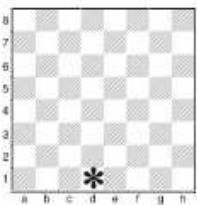
Definisci il tipo di casella marcata dall'asterisco?

- Casella d'angolo
- Casella laterale
- Casella centrale
- Casella normale



Definisci il tipo di casella marcata dall'asterisco?

- Casella d'angolo
- Casella laterale
- Casella centrale
- Casella normale



Definisci il tipo di casella marcata dall'asterisco?

- Casella d'angolo
- Casella laterale
- Casella centrale
- Casella normale

Scrivi il valore relativo dei pezzi elencati sotto.

♔ =    ; ♔ =    ; ♚ =    ; ♖ =    ; ♘ =    ; ♙ =    ;

---

\*

Come ti è sembrato l'esercizio?

- Facile
- Difficile
- Molto difficile

Come ti è piaciuto l'esercizio?

- Male
- Bene
- Molto bene

---

\*